

運行管理者試験問題(貨物)

受験番号	T											氏名	
------	---	--	--	--	--	--	--	--	--	--	--	----	--

注 意

1. これは試験問題です。問題は、1 ページから 30 ページまでの 30 問です。
2. 「試験始め」の合図と同時に、問題のページ数を確認して下さい。
もし、印刷の不明瞭なものやページ数が不足しているものがあった場合は、直ちに試験官に申し出て下さい。
3. 答えは別の解答用紙に記入(マーク)して下さい。(解答欄にある該当番号の○を●のように正しく黒く塗りつぶして下さい。)
4. 解答用紙に記入(マーク)された答案は、光学式読取装置により読み取られ、採点されます。
正しくマークされていない答案は、読み取り不能となり、採点することができませんので、下記の注意点を守って正確にマークして下さい。
 - ① 該当する○(円の枠)の全体を、HB 又は B の鉛筆等で正しく黒く(濃く)塗りつぶして下さい。(F 又は H を含むより薄い鉛筆等で記入した場合は、読取装置により読み取れず、無解答と判定されることがあります。)

(正しい塗りつぶし方)

解 答	①	●	①	●
	②	●	②	●
	③	●	③	●
	④	●	④	●

(悪い塗りつぶし方)

解 答	①	○	①	○
	②	○	②	○
	③	○	③	○
	④	○	④	○

- ② ①と同様に○の一部だけを塗りつぶしたものや、線を引いたもの、レ点を打ったもの等は読み取れず、無解答と判定されることがあります。

<よい例> ●

<悪い例>



- ③ マークを消すときは、「消しゴム」を使用して、しっかりときれいに消し、消し残しを残さないようにして下さい。(消し残し等があると複数解答と判定され、不正解となる場合があります。)

5. 答えを記入する際は、各問題の設問の指示に従い解答して下さい。

なお、解答にあたっては、各問及び各選択肢に記載された事項以外は、考慮しないものとして下さい。

また、設問で求める数と異なる数の解答をしたもの、及び複数の解答を求める問題で一部不正解のものは、正解としません。

6. 参考書、携帯電話(その他の通信機器を含む)及び電卓その他の計算機能があるすべてのものの使用を禁止します。

計算をする場合は、問題用紙の余白を使って下さい。

1. 貨物自動車運送事業法関係

問 1 一般貨物自動車運送事業に関する次の記述のうち、正しいものを2つ選び、解答用紙の該当する欄にマークしなさい。なお、解答にあたっては、各選択肢に記載されている事項以外は考慮しないものとする。

1. 一般貨物自動車運送事業を經營しようとする者は、国土交通大臣の許可を受けなければならない。
2. 一般貨物自動車運送事業の許可の取消しを受けた者は、その取消しの日から1年を経過しなければ、新たに一般貨物自動車運送事業の許可を受けることができない。
3. 国土交通大臣は、一般貨物自動車運送事業の許可の申請において、その事業の計画が過労運転の防止その他輸送の安全を確保するため適切なものであること等、法令で定める許可の基準に適合していると認めるときでなければ、その許可をしてはならない。
4. 一般貨物自動車運送事業者は、運送約款を定め、又はこれを変更しようとするときは、あらかじめその旨を、国土交通大臣に届け出なければならない。

問 2 貨物自動車運送事業法に定める一般貨物自動車運送事業者(以下「事業者」という。)の輸送の安全等についての次の記述のうち、誤っているものを1つ選び、解答用紙の該当する欄にマークしなさい。

1. 事業者は、事業用自動車の数、荷役その他の事業用自動車の運転に附帯する作業の状況等に応じて必要となる員数の運転者及びその他の従業員の確保、事業用自動車の運転者とその休憩又は睡眠のために利用することができる施設の整備、事業用自動車の運転者の適切な勤務時間及び乗務時間の設定その他事業用自動車の運転者の過労運転を防止するために必要な措置を講じなければならない。
2. 事業者は、事業用自動車の運転者が疾病により安全な運転ができないおそれがある状態で事業用自動車を運転することを防止するために必要な医学的知見に基づく措置を講じなければならない。
3. 事業者は、運行管理者に対し、国土交通省令で定める業務を行うため必要な権限を与えなければならない。また、事業者及び事業用自動車の運転者その他の従業員は、運行管理者がその業務として行う助言又は指導があった場合は、これを尊重しなければならない。
4. 事業用自動車の運転者及び運転の補助に従事する従業員は、運行の安全を確保するため、国土交通省令で定める事項を遵守しなければならない。

問 3 次の記述のうち、貨物自動車運送事業の運行管理者の行わなければならない業務として正しいものを2つ選び、解答用紙の該当する欄にマークしなさい。なお、解答にあたっては、各選択肢に記載されている事項以外は考慮しないものとする。

1. 法令の規定により、運転者に対して点呼を行い、報告を求め、確認を行い、及び指示を与え、並びに記録し、及びその記録を保存し、並びに国土交通大臣が告示で定めるアルコール検知器を備え置くこと。
2. 法令に規定する「運行記録計」を管理し、及びその記録を保存すること。
3. 事業用自動車に係る事故が発生した場合には、法令の規定により「事故の発生日時」等の所定の事項を記録し、及びその記録を保存すること。
4. 運行管理規程を定め、かつ、その遵守について運行管理業務を補助させるため選任した補助者及び運転者に対し指導及び監督を行うこと。

問 4 貨物自動車運送事業の事業用自動車の運転者に対し、各点呼の際に報告を求め、及び確認を行うべき事項として、A、B、Cに入るべき字句を下の枠内の選択肢(1～6)から選び、解答用紙の該当する欄にマークしなさい。

【 乗務前点呼 】

- (1) 酒気帯びの有無
- (2) 疾病、疲労その他の理由により安全な運転をすることができないおそれの有無
- (3)

【 乗務後点呼 】

- (1) 乗務に係る事業用自動車、道路及び運行の状況
- (2) 他の運転者と交替した場合にあっては法令の規定による通告
- (3)

【 中間点呼 】

- (1) 酒気帯びの有無
- (2)

- | |
|--|
| <ul style="list-style-type: none">1. 酒気帯びの有無2. 乗務に係る事業用自動車、道路及び運行の状況3. 他の運転者と交替した場合にあっては法令の規定による通告4. 貨物の積載状況5. 道路運送車両法の規定による点検の実施又はその確認6. 疾病、疲労その他の理由により安全な運転をすることができないおそれの有無 |
|--|

問 5 自動車事故に関する次の記述のうち、一般貨物自動車運送事業者が自動車事故報告規則に基づき運輸支局長等に速報を要するものをすべて選び、解答用紙の該当する欄にマークしなさい。なお、解答にあたっては、各選択肢に記載されている事項以外は考慮しないものとする。

1. 事業用自動車が走行中、鉄道施設である高架橋の下を通過しようとしたところ、積載していたコンテナの上部が橋桁に衝突した。この影響で、2時間にわたり本線において鉄道車両の運転を休止させた。
2. 消防法に規定する危険物である灯油を積載した事業用のタンク車が、運搬途中の片側1車線の一般道のカーブ路においてハンドル操作を誤り、転覆し、積み荷の灯油の一部がタンクから漏えいする単独事故を引き起こした。この事故で、当該自動車の運転者が軽傷を負った。
3. 事業用自動車が高速道路を走行中、前方に渋滞により乗用車が停止していることに気づくのが遅れ、追突事故を引き起こした。この事故で、乗用車に乗車していた5人が重傷(自動車事故報告規則で定める傷害のものをいう。以下同じ。)を負い、当該道路の通行が3時間禁止された。
4. 事業用自動車が信号のない交差点を通過しようとした際、交差する右方の道路から進行してきた二輪車を避けようとして、誤って前方の歩道に乗り上げ、登校中の小学生の列に突っ込む事故を引き起こした。この事故で、歩道を歩いていた小学生のうち、4人が重傷、5人が軽傷を負った。

問 6 一般貨物自動車運送事業者(以下「事業者」という。)の過労運転の防止についての法令の定めに関する次の記述のうち、誤っているものを1つ選び、解答用紙の該当する欄にマークしなさい。なお、解答にあたっては、各選択肢に記載されている事項以外は考慮しないものとする。

1. 事業者は、運転者及び事業用自動車の運転の補助に従事する従業員(以下「乗務員」という。)が有効に利用することができるように、休憩に必要な施設を整備し、及び乗務員に睡眠を与える必要がある場合にあっては睡眠に必要な施設を整備し、並びにこれらの施設を適切に管理し、及び保守しなければならない。
2. 事業者は、事業計画に従い業務を行うに必要な員数の事業用自動車の運転者(以下「運転者」という。)を常時選任しておかなければならず、この場合、選任する運転者は、日々雇い入れられる者、3ヵ月以内の期間を定めて使用される者又は試みの使用期間中の者(14日を超えて引き続き使用されるに至った者を除く。)であってはならない。
3. 事業者は、運転者が長距離運転又は夜間の運転に従事する場合であって、疲労等により安全な運転を継続することができないおそれがあるときは、あらかじめ、当該運転者と交替するための運転者を配置しておかなければならない。
4. 特別積合せ貨物運送を行う事業者は、当該特別積合せ貨物運送に係る運行系統であって起点から終点までの距離が100キロメートルを超えるものごとに、所定の事項について事業用自動車の乗務に関する基準を定め、かつ、当該基準の遵守について乗務員に対する適切な指導及び監督を行わなければならない。

問 7 一般貨物自動車運送事業者(以下「事業者」という。)の事業用自動車の運行の安全を確保するために、国土交通省告示等に基づき運転者に対して行わなければならない指導監督及び特定の運転者に対して行わなければならない特別な指導に関する次の記述のうち、誤っているものを1つ選び、解答用紙の該当する欄にマークしなさい。なお、解答にあたっては、各選択肢に記載されている事項以外は考慮しないものとする。

1. 事業者は、当該運送事業に係る主な道路の状況その他の事業用自動車の運行に関する状況、その状況の下において事業用自動車の運行の安全を確保するために必要な運転の技術及び法令に基づき自動車の運転に関して遵守すべき事項について、運転者に対する適切な指導及び監督をしなければならない。この場合においては、その日時、場所及び内容並びに指導及び監督を行った者及び受けた者を記録し、かつ、その記録を営業所において3年間保存しなければならない。
2. 事業者は、高齢運転者に対する特別な指導については、国土交通大臣が認定した高齢運転者のための適性診断の結果を踏まえ、個々の運転者の加齢に伴う身体機能の変化の程度に応じた事業用自動車の安全な運転方法等について運転者が自ら考えるよう指導する。この指導は、当該適性診断の結果が判明した後1ヵ月以内に実施する。
3. 事業者は、事業用自動車の運転者として常時選任するために新たに雇い入れた者であって、当該事業者において初めて事業用自動車に乗務する前3年間に他の事業者等によって運転者として常時選任されたことがない者には、初任運転者を対象とする特別な指導について、やむを得ない事情がある場合は、初めて事業用自動車に乗務を開始した後3ヵ月以内に実施する。
4. 事業者は、法令に基づき事業用自動車の運転者として常時選任するために新たに雇い入れた場合には、当該運転者について、自動車安全運転センターが交付する無事故・無違反証明書又は運転記録証明書等により、雇い入れる前の事故歴を把握し、事故惹起運転者に該当するか否かを確認する。

問 8 一般貨物自動車運送事業者(以下「事業者」という。)の運行指示書による指示等に関する次の記述のうち、正しいものを2つ選び、解答用紙の該当する欄にマークしなさい。なお、解答にあたっては、各選択肢に記載されている事項以外は考慮しないものとする。

1. 事業者は、乗務前及び乗務後の点呼のいずれも対面で行うことができない乗務を含む運行ごとに、「運行の開始及び終了の地点及び日時」等の所定の事項を記載した運行指示書を作成し、これにより事業用自動車の運転者に対し適切な指示を行い、及びこれを当該運転者に携行させなければならない。
2. 事業者は、運行指示書の作成を要する運行の途中において、「運行の経路並びに主な経過地における発車及び到着の日時」に変更が生じた場合には、運行指示書の写しに当該変更の内容を記載し、これにより運転者に対し電話その他の方法により、当該変更の内容について適切な指示を行わなければならない。この場合、当該運転者が携行している運行指示書への当該変更内容の記載を省略させることができる。
3. 事業者は、運行指示書の作成を要しない運行の途中において、事業用自動車の運転者に乗務前及び乗務後の点呼のいずれも対面で行うことができない乗務を行わせることとなった場合には、当該乗務以後の運行について、所定の事項を記載した運行指示書を作成し、及びこれにより当該運転者に対し電話その他の方法により適切な指示を行わなければならない。
4. 事業者は、法令の規定により運行指示書を作成した場合には、当該運行指示書を、運行を計画した日から1年間保存しなければならない。

2. 道路運送車両法関係

問 9 道路運送車両法の自動車の登録等についての次の記述のうち、誤っているものを1つ選び、解答用紙の該当する欄にマークしなさい。なお、解答にあたっては、各選択肢に記載されている事項以外は考慮しないものとする。

1. 臨時運行許可証の有効期間が満了したときは、その日から5日以内に、当該臨時運行許可証及び臨時運行許可番号標を行政庁に返納しなければならない。
2. 登録自動車の使用者は、当該自動車が滅失し、解体し(整備又は改造のために解体する場合を除く。)、又は自動車の用途を廃止したときは、その事由があった日(使用済自動車の解体である場合には解体報告記録がなされたことを知った日)から15日以内に、当該自動車検査証を国土交通大臣に返納しなければならない。
3. 登録自動車の所有者は、当該自動車の使用者が道路運送車両法の規定により自動車の使用の停止を命ぜられ、同法の規定により自動車検査証を返納したときは、その事由があった日から30日以内に、当該自動車登録番号標及び封印を取りはずし、自動車登録番号標について国土交通大臣に届け出なければならない。
4. 自動車の所有者は、当該自動車の使用の本拠の位置に変更があったときは、道路運送車両法で定める場合を除き、その事由があった日から15日以内に、国土交通大臣の行う変更登録の申請をしなければならない。

問10 自動車の検査等についての次の記述のうち、正しいものを2つ選び、解答用紙の該当する欄にマークしなさい。なお、解答にあたっては、各選択肢に記載されている事項以外は考慮しないものとする。

1. 自動車は、指定自動車整備事業者が継続検査の際に交付した有効な保安基準適合標章を表示している場合であっても、自動車検査証を備え付けなければ、運行の用に供してはならない。
2. 自動車の使用者は、継続検査を申請する場合において、道路運送車両法第67条(自動車検査証の記載事項の変更及び構造等変更検査)の規定による自動車検査証の記入の申請をすべき事由があるときは、あらかじめ、その申請をしなければならない。
3. 国土交通大臣は、一定の地域に使用の本拠の位置を有する自動車の使用者が、天災その他やむを得ない事由により、継続検査を受けることができないと認めるときは、当該地域に使用の本拠の位置を有する自動車の自動車検査証の有効期間を、期間を定めて伸長する旨を公示することができる。
4. 自動車に表示されている検査標章には、当該自動車の自動車検査証の有効期間の起算日が表示されている。

問11 道路運送車両法第46条に定める「保安基準の原則」についての次の文中、A、B、Cに入るべき字句としていずれか正しいものを1つ選び、解答用紙の該当する欄にマークしなさい。

自動車の構造及び自動車の装置等に関する保安上又は その他の環境保全上の技術基準(「保安基準」という。)は、道路運送車両の構造及び装置が に十分堪え、操縦その他の使用のための作業に安全であるとともに、通行人その他に を与えないことを確保するものでなければならず、かつ、これにより製作者又は使用者に対し、自動車の製作又は使用について不当な制限を課することとなるものであってはならない。

- | | | |
|---|---------|---------|
| A | 1. 公害防止 | 2. 事故防止 |
| B | 1. 衝撃 | 2. 運行 |
| C | 1. 危害 | 2. 影響 |

問12 道路運送車両の保安基準及びその細目を定める告示についての次の記述のうち、誤っているものを1つ選び、解答用紙の該当する欄にマークしなさい。
なお、解答にあたっては、各選択肢に記載されている事項以外は考慮しないものとする。

1. 「緊急自動車」とは、消防自動車、警察自動車、保存血液を販売する医薬品販売業者が保存血液の緊急輸送のため使用する自動車、救急自動車、公共用応急作業自動車等の自動車及び国土交通大臣が定めるその他の緊急の用に供する自動車をいう。
2. 自動車の軸重は、10トン(けん引自動車のうち告示で定めるものにあつては、11.5トン)を超えてはならない。
3. 自動車(二輪自動車等を除く。)の空気入ゴムタイヤの接地部は滑り止めを施したものであり、滑り止めの溝は、空気入ゴムタイヤの接地部の全幅にわたり滑り止めのために施されている凹部(サイピング、プラットフォーム及びウエア・インジケータの部分を除く。)のいずれの部分においても1.4mm以上の深さを有すること。
4. 貨物の運送の用に供する普通自動車であつて、車両総重量が7トン以上のものの後面には、所定の後部反射器を備えるほか、反射光の色、明るさ等に関し告示で定める基準に適合する大型後部反射器を備えなければならない。

3. 道路交通法関係

問13 車両の交通方法等についての次の記述のうち、誤っているものを1つ選び、解答用紙の該当する欄にマークしなさい。なお、解答にあたっては、各選択肢に記載されている事項以外は考慮しないものとする。

1. 車両は、道路外の施設又は場所に入出するためやむを得ない場合において歩道等を横断するとき、又は法令の規定により歩道等で停車し、若しくは駐車するため必要な限度において歩道等を通行するときは、徐行しなければならない。
2. 車両の運転者は、左折し、右折し、転回し、徐行し、停止し、後退し、又は同一方向に進行しながら進路を変えるときは、手、方向指示器又は灯火により合図をし、かつ、これらの行為が終わるまで当該合図を継続しなければならない。(環状交差点における場合を除く。)
3. 車両は、法令に規定する優先道路を通行している場合における当該優先道路にある交差点を除き、交差点の手前の側端から前に30メートル以内の部分においては、他の車両(軽車両を除く。)を追い越すため、進路を変更し、又は前車の側方を通過してはならない。
4. 追越しをしようとする車両(後車)は、その追い越されようとする車両(前車)が他の自動車を追いつそうとしているときは、追越しを始めてはならない。

問14 道路交通法に定める交差点等における通行方法についての次の記述のうち、正しいものを2つ選び、解答用紙の該当する欄にマークしなさい。なお、解答にあたっては、各選択肢に記載されている事項以外は考慮しないものとする。

1. 左折又は右折しようとする車両が、法令の規定により、それぞれ道路の左側端、中央又は右側端に寄ろうとして手又は方向指示器による合図をした場合においては、その後方にある車両は、いかなる場合であっても当該合図をした車両の進路を妨げてはならない。
2. 車両等は、交差点に入ろうとし、及び交差点内を通行するときは、当該交差点の状況に応じ、交差道路を通行する車両等、反対方向から進行してきて右折する車両等及び当該交差点又はその直近で道路を横断する歩行者に特に注意し、かつ、できる限り安全な速度と方法で進行しなければならない。
3. 車両等は、横断歩道に接近する場合には、当該横断歩道を通過する際に当該横断歩道によりその進路の前方を横断しようとする歩行者がないことが明らかなる場合を除き、当該横断歩道の直前で停止することができるような速度で進行しなければならない。
4. 車両等(優先道路を通行している車両等を除く。)は、交通整理の行われていない交差点に入ろうとする場合において、交差道路が優先道路であるとき、又はその通行している道路の幅員よりも交差道路の幅員が明らかに広いものであるときは、その前方に出る前に必ず一時停止しなければならない。

問15 道路交通法に定める過労運転に係る車両の使用者に対する指示についての次の文中、A、B、C、Dに入るべき字句としていずれか正しいものを1つ選び、解答用紙の該当する欄にマークしなさい。

車両の運転者が道路交通法第66条(過労運転等の禁止)の規定に違反して過労により ができないおそれがある状態で車両を運転する行為(以下「過労運転」という。)を当該車両の使用者(当該車両の運転者であるものを除く。以下同じ。)の業務に関してした場合において、当該過労運転に係る が当該車両につき過労運転を防止するため必要な を行っていると認められないときは、当該車両の使用の本拠の位置を管轄する公安委員会は、当該車両の使用者に対し、過労運転が行われることのないよう運転者に指導し又は助言することその他過労運転を防止するため ことを指示することができる。

- | | | |
|---|----------------|-------------|
| A | 1. 運転の維持、継続 | 2. 正常な運転 |
| B | 1. 車両の使用者 | 2. 車両の所有者 |
| C | 1. 運行の管理 | 2. 労務の管理 |
| D | 1. 必要な施設等を整備する | 2. 必要な措置をとる |

問16 車両等の運転者の遵守事項等についての次の記述のうち、正しいものを2つ選び、解答用紙の該当する欄にマークしなさい。なお、解答にあたっては、各選択肢に記載されている事項以外は考慮しないものとする。

1. 車両等の運転者は、身体障害者用の車椅子が通行しているときは、その側方を離れて走行し、車椅子の通行を妨げないようにしなければならない。
2. 車両等の運転者は、高齢の歩行者でその通行に支障のあるものが通行しているときは、一時停止し、又は徐行して、その通行を妨げないようにしなければならない。
3. 停留所において乗客の乗降のため停車していた乗合自動車が発進するため進路を変更しようとして手又は方向指示器により合図をした場合においては、その後方にある車両は、その速度を急に変更しなければならないこととなる場合にあっても、当該合図をした乗合自動車の進路の変更を妨げてはならない。
4. 車両等の運転者は、児童、幼児等の乗降のため、車両の保安基準に関する規定に定める非常点滅表示灯をつけて停車している通学通園バス(専ら小学校、幼稚園等に通う児童、幼児等を運送するために使用する自動車で政令で定めるものをいう。)の側方を通過するときは、徐行して安全を確認しなければならない。

問17 貨物自動車に係る道路交通法に定める乗車、積載及び過積載(車両に積載をする積載物の重量が法令による制限に係る重量を超える場合における当該積載。以下同じ。)についての次の記述のうち、誤っているものを1つ選び、解答用紙の該当する欄にマークしなさい。なお、解答にあたっては、各選択肢に記載されている事項以外は考慮しないものとする。

1. 積載物の高さは、3.8メートル(公安委員会が道路又は交通の状況により支障がないと認めて定めるものにあつては3.8メートル以上4.1メートルを超えない範囲内において公安委員会が定める高さ)からその自動車の積載をする場所の高さを減じたものを超えてはならない。
2. 車両(軽車両を除く。)の運転者は、当該車両について政令で定める乗車人員又は積載物の重量、大きさ若しくは積載の方法の制限を超えて乗車をさせ、又は積載をして車両を運転してはならない。
3. 警察署長は、荷主が自動車の運転者に対し、過積載をして自動車を運転することを要求するという違反行為を行った場合において、当該荷主が当該違反行為を反復して行うおそれがあると認めるときは、内閣府令で定めるところにより、当該自動車の運転者に対し、当該過積載による運転をしてはならない旨を命ずることができる。
4. 自動車の使用者は、その者の業務に関し、自動車の運転者に対し、道路交通法第57条(乗車又は積載の制限等)第1項の規定に違反して政令で定める積載物の重量、大きさ又は積載の方法の制限を超えて積載をして運転することを命じ、又は自動車の運転者がこれらの行為をすることを容認してはならない。

4. 労働基準法関係

問18 労働基準法(以下「法」という。)の定めに関する次の記述のうち、誤っているものを1つ選び、解答用紙の該当する欄にマークしなさい。なお、解答にあたっては、各選択肢に記載されている事項以外は考慮しないものとする。

1. 使用者は、その雇入れの日から起算して6ヵ月間継続勤務し全労働日の8割以上出勤した労働者に対して、継続し、又は分割した7労働日の有給休暇を与えなければならない。
2. 使用者は、労働時間が6時間を超える場合には少なくとも45分、8時間を超える場合には少なくとも1時間の休憩時間を労働時間の途中に与えなければならない。
3. 使用者が、法の規定により労働時間を延長し、又は休日に労働させた場合においては、その時間又はその日の労働については、通常の労働時間又は労働日の賃金の計算額の2割5分以上5割以下の範囲内でそれぞれ政令で定める率以上の率で計算した割増賃金を支払わなければならない。
4. 労働時間は、事業場を異にする場合においても、労働時間に関する規定の適用については通算する。

問19 労働基準法及び労働安全衛生法の定める健康診断に関する次の記述のうち、誤っているものを1つ選び、解答用紙の該当する欄にマークしなさい。なお、解答にあたっては、各選択肢に記載されている事項以外は考慮しないものとする。

1. 事業者は、常時使用する労働者(労働安全衛生規則(以下「規則」という。)に定める深夜業を含む業務等に常時従事する労働者を除く。)に対し、1年以内ごとに1回、定期的に、規則に定める項目について医師による健康診断を行わなければならない。また、この健康診断の結果に基づき、健康診断個人票を作成し、5年間保存しなければならない。
2. 事業者は、健康診断の結果(当該健康診断の項目に異常の所見があると診断された労働者に係るものに限る。)に基づき、当該労働者の健康を保持するために必要な措置について、規則で定めるところにより、医師又は歯科医師の意見を聴かななければならない。
3. 事業者は、事業者が行う健康診断を受けた労働者から請求があった場合に限り、当該労働者に対し、規則で定めるところにより、当該健康診断の結果を通知するものとする。
4. 事業者は、その労働時間の状況その他の事項が労働者の健康の保持を考慮して規則第52条の2で定める要件に該当する労働者からの申出があったときは、遅滞なく、当該労働者に対し、規則で定めるところにより、医師による面接指導を行わなければならない。

問20 「自動車運転者の労働時間等の改善のための基準」に定める貨物自動車運送事業に従事する自動車運転者の拘束時間等についての次の文中、A、B、C、Dに入るべき字句を次の枠内の選択肢(1～8)から選び、解答用紙の該当する欄にマークしなさい。


拘束時間は、1ヵ月について を超えないものとする。ただし、労使協定があるときは、1年のうち までは、1年間についての拘束時間が を超えない範囲内において、 まで延長することができる。

- | | | | |
|-------------|-------------|-----------|-----------|
| 1. 293 時間 | 2. 296 時間 | 3. 320 時間 | 4. 323 時間 |
| 5. 3,516 時間 | 6. 3,552 時間 | 7. 3ヵ月 | 8. 6ヵ月 |

問21 「自動車運転者の労働時間等の改善のための基準」に定める貨物自動車運送事業に従事する自動車運転者(以下「トラック運転者」という。)の拘束時間等に関する次の記述のうち、正しいものを2つ選び、解答用紙の該当する欄にマークしなさい。なお、解答にあたっては、各選択肢に記載されている事項以外は考慮しないものとする。

1. 拘束時間とは、労働時間、休憩時間その他の使用者に拘束されている時間をいい、休息期間とは、使用者の拘束を受けない期間をいう。
2. 連続運転時間(1回が連続5分以上で、かつ、合計が30分以上の運転の中断をすることなく連続して運転する時間をいう。)は、4時間を超えないものとする。
3. 使用者は、トラック運転者の休息期間については、当該トラック運転者の住所地における休息期間がそれ以外の場所における休息期間より長くなるように努めるものとする。
4. 使用者は、トラック運転者(隔日勤務に就く運転者以外のもの。)が同時に1台の事業用自動車に2人以上乗務する場合(車両内に身体を伸ばして休息することができる設備がある場合に限る。)においては、1日についての最大拘束時間を21時間まで延長することができる。

問22 下図は、貨物自動車運送事業に従事する、自動車運転者の1週間の勤務状況の例を示したものであるが、「自動車運転者の労働時間等の改善のための基準」(以下「改善基準」という。)に定める拘束時間等に関する次の記述のうち、正しいものを2つ選び、解答用紙の該当する欄にマークしなさい。ただし、すべて1人乗務の場合とする。なお、解答にあたっては、下図に示された内容及び各選択肢に記載されている事項以外は考慮しないものとする。



(注) 日曜日は休日とする。

1. 1日についての拘束時間が改善基準に定める最大拘束時間に違反する勤務はない。
2. 1日についての拘束時間が15時間を超えることができる1週間についての回数は、改善基準に違反していない。
3. 勤務終了後の休息期間は、改善基準に違反しているものはない。
4. 木曜日に始まる勤務の1日についての拘束時間は、この1週間の勤務の中で拘束時間が最も短い。

問23 下図は、貨物自動車運送事業に従事する自動車運転者の4週間の運転時間の例を示したものである。図の空欄A、B、C、Dについて、次の選択肢1～4の運転時間の組み合わせを当てはめた場合、2日を平均し1日当たりの運転時間及び2週間を平均し1週間当たりの運転時間が「自動車運転者の労働時間等の改善のための基準」に違反せず、かつ、当該4週間の運転時間の合計が最少となるものを1つ選び、解答用紙の該当する欄にマークしなさい。なお、当該4週間の運転時間は1人乗務のものとする。

前週		第1週							第2週						
	31日	1日	2日	3日	4日	5日	6日	7日	8日	9日	10日	11日	12日	13日	14日
運転時間等(時間)	休日	4	5	9	A	9	7	休日	5	9	B	10	6	8	休日
(起算日)															
		第3週							第4週						
	15日	16日	17日	18日	19日	20日	21日	22日	23日	24日	25日	26日	27日	28日	
運転時間等(時間)	10	C	8	4	4	9	休日	10	D	9	5	4	5	休日	

- (注1) 2日を平均した1日当たりの運転時間については、当該4週間のすべての日を特定日とすること。
(注2) 2週間の起算日は1日とする。
(注3) 各労働日の始業時刻は午前8時とする。

選択肢		A (時間)	B (時間)	C (時間)	D (時間)	2週間を平均した1週間当たりの運転時間(時間)		第1週～第4週の4週間を平均した1週間当たりの運転時間(時間)
						第1週～第2週	第3週～第4週	
1		8	9	8	9	44.5	42.5	43.5
2		8	8	7	9	44.0	42.0	43.0
3		9	6	10	5	43.5	41.5	42.5
4		10	5	6	7	43.5	40.5	42.0

5. 実務上の知識及び能力

問24 点呼の実施等に関する次の記述のうち、適切なものには解答用紙の「適」の欄に、適切でないものには解答用紙の「不適」の欄にマークしなさい。なお、解答にあたっては、各選択肢に記載されている事項以外は考慮しないものとする。

1. 乗務前の点呼における酒気帯びの有無を確認するため、アルコール検知器を使用しなければならないとされているが、アルコール検知器を使用する理由は、身体に保有しているアルコールの程度を測定し、道路交通法施行令で定める呼気1リットル当たり0.15ミリグラム以上であるか否かを判定するためである。
2. 配送業務である早朝の乗務前点呼において、これから乗務する運転者の目が赤く眠そうな顔つきであったため、本人に報告を求めたところ、連日、就寝が深夜2時頃と遅く寝不足気味ではあるが、何とか乗務は可能であるとの申告があった。このため運行管理者は、当該運転者に対し途中で眠気等があった時には、自らの判断で適宜、休憩を取るなどして運行するよう指示し、出庫させた。
3. 運行管理者は、乗務開始及び乗務終了後の運転者に対し、原則、対面で点呼を実施しなければならないが、遠隔地で乗務が開始又は終了する場合、車庫と営業所が離れている場合、又は運転者の出庫・帰庫が早朝・深夜であり、点呼を行う運行管理者が営業所に出勤していない場合等、運行上やむを得ず、対面での点呼が実施できないときには、電話、その他の方法で行っている。
4. 乗務前の点呼において運転者の健康状態を的確に確認することができるようにするため、健康診断の結果等から異常の所見がある運転者又は就業上の措置を講じた運転者が一目で分かるように、個人のプライバシーに配慮しながら点呼記録表の運転者の氏名の横に注意喚起のマークを付記するなどして、これを点呼において活用している。

問25 一般貨物自動車運送事業者が事業用自動車の運転者に対して行う指導・監督に関する次の記述のうち、適切なものには解答用紙の「適」の欄に、適切でないものには解答用紙の「不適」の欄にマークしなさい。なお、解答にあたっては、各選択肢に記載されている事項以外は考慮しないものとする。

1. 他の自動車に追従して走行するときは、常に「秒」の意識をもって自車の速度と制動距離(ブレーキが効きはじめてから止まるまでに走った距離)に留意し、前車への追突の危険が発生した場合でも安全に停止できるよう、制動距離と同程度の車間距離を保って運転するよう指導している。
2. 飲酒により体内に摂取されたアルコールを処理するために必要な時間の目安については、例えばビール500ミリリットル(アルコール5%)の場合、概ね4時間とされている。事業者は、これを参考に個人差も考慮して、体質的にお酒に弱い運転者のみを対象として、飲酒が運転に及ぼす影響等について指導を行っている。
3. 平成27年中の交通事故死者数のうち、65歳以上の高齢者の占める割合は、全体の5割を超えている。その中でも、道路を横断中の高齢歩行者の死亡事故が特に多く発生していることから、歩道や路肩に高齢歩行者を発見したときは、急に横断するかもしれないと考え、その動静に注意を払って、万が一に備えた走行を行うよう運転者に対し指導している。
4. ある運転者が、昨年今年と連続で追突事故を起こしたので、運行管理者は、ドライブレコーダーの映像等をもとに事故の原因を究明するため、専門的な知識及び技術を有する外部機関に事故分析を依頼し、その結果に基づき運転者に指導した。

問26 事業用自動車の運転者の健康管理及び就業における判断・対処に関する次の記述のうち、適切なものには解答用紙の「適」の欄に、適切でないものには解答用紙の「不適」の欄にマークしなさい。なお、解答にあたっては、各選択肢に記載されている事項以外は考慮しないものとする。

1. 事業者は、運転者が医師の診察を受ける際は、自身が職業運転者で勤務時間が不規則であることを伝え、薬を処方されたときは、服薬のタイミングと運転に支障を及ぼす副作用の有無について確認するよう指導している。
2. 事業者は、法令により定められた健康診断を実施することが義務づけられているが、運転者が自ら受けた健康診断(人間ドックなど)であっても法令で必要な定期健康診断の項目を充足している場合は、法定健診として代用することができる。
3. 事業者は、健康診断の結果、運転者に心疾患の前兆となる症状がみられたので、当該運転者に医師の診断を受けさせた。その結果、医師より「直ちに入院治療の必要はないが、より軽度な勤務において経過観察することが必要」との所見が出されたが、繁忙期であったことから、運行管理者の判断で従来と同様の乗務を続けさせた。
4. 漫然運転や居眠り運転の原因の一つとして、睡眠時無呼吸症候群(SAS)と呼ばれている病気がある。安全運転を確保するためには、この病気の早期発見が重要であることから、事業者は、運転者に対し雇い入れ時、その後は定期的に医療機器によるSASスクリーニング検査を実施している。

問27 近年普及の進んできた安全運転支援装置等に関する次の文中、A、B、C、Dに入るべき字句を下の枠内の選択肢(1～6)から選び、解答用紙の該当する欄にマークしなさい。

【A】は、走行車線を認識し、車線から逸脱した場合あるいは逸脱しそうになった場合には、運転者が車線中央に戻す操作をするよう警報が作動する装置

【B】は、レーダー等により先行車との距離を常に検出し、追突の危険性が高まったら、まずは警報し、運転者にブレーキ操作を促し、それでもブレーキ操作をせず、追突、若しくは追突の可能性が高いと車両が判断した場合において、システムにより自動的にブレーキをかけ、衝突時の速度を低く抑える装置

【C】は、急なハンドル操作や積雪がある路面の走行などを原因とした横転の危険を、運転者へ警告するとともに、エンジン出力やブレーキ力を制御し、横転の危険を軽減させる装置

【D】は、交通事故やニアミスなどにより急停止等の衝撃を受けると、その前後の映像とともに、加速度等の走行データを記録する装置(常時記録の機器もある。)

- | | |
|---------------|-------------------|
| 1. 衝突被害軽減ブレーキ | 2. 映像記録型ドライブレコーダー |
| 3. ふらつき注意喚起装置 | 4. 車線逸脱警報装置 |
| 5. デジタル式運行記録計 | 6. 車両安定性制御装置 |

問28 交通事故及び緊急事態が発生した場合における運行管理者又は事業用自動車の運転者の措置に関する次の記述のうち、適切なものには解答用紙の「適」の欄に、適切でないものには解答用紙の「不適」の欄にマークしなさい。なお、解答にあたっては、各選択肢に記載されている事項以外は考慮しないものとする。

1. 大型トラックに荷物を積載して運送中の運転者から、営業所の運行管理者に対し「現在走行している地域の天候が急変し、雪が強く降りはじめた。視界も悪くなってきたので、一時運転を中断している。」との連絡があった。連絡を受けた運行管理者は、「営業所では判断できないので、運行する経路を運転者自ら判断し、また、運行することが困難な状況に至った場合は、適当な待避場所を見つけて運転者自らの判断で運送の中断等を行うこと」を指示した。
2. 運転者は、中型トラックで走行中にオートバイと接触事故を起こした。オートバイの運転者が足を負傷し自力で動けなかったため、当該運転者を救護するため歩道に移動させた。その後、双方の事故車両を道路脇に移動させ、発炎筒を使用して後続車に注意を促すとともに、救急車の手配と警察への通報を行い、運行管理者に連絡し、到着した警察官に事故について報告した。
3. 運転者が大型トラックを運転して踏切を通過中、後輪が脱輪して運行不能となった。このため、当該運転者は、直ちに踏切支障報知装置の非常ボタンを押すとともに、発炎筒を使用して列車の運転士等に踏切内において当該トラックが運行不能となっていることを知らせた。その後、当該トラックを踏切の外に移動させるための措置を講じた。
4. 事業用自動車の運転者が運転中、交差点内で接触事故を起こした。当方及び相手方の運転者にけがはなく、双方の自動車の損傷も軽微なものであった。相手方の運転者との話し合いの結果、事故はお互いの過失によるものであることから、自動車の修理費用についてはお互いが自己負担することとし、警察官には事故の報告をしないことにした。

問29 運行管理者は複数の荷主からの運送依頼を受けて、下のとおり4日にわたる2人乗務による運行計画を立てた。この2人乗務を必要とした根拠についての次の1～3の下線部の運行管理者の判断について、正しいものをすべて選び、解答用紙の該当する欄にマークしなさい。なお、解答にあたっては、<4日にわたる運行計画>に記載されている事項以外は考慮しないものとする。

<4日にわたる運行計画>

前日 当該運行の前日は、この運行を担当する運転者は、休日とする。

始業時刻 6時00分	出庫時刻 6時30分									到着時刻 20時30分	終業時刻 20時45分	
1日目	乗務前 点呼 (営業所)	運転 1時間	荷積み 1時間	運転 3時間	休憩 1時間	運転 2時間	休憩 30分	運転 3時間	荷下ろし 1時間30分	運転 1時間	乗務後 点呼等	宿泊所

始業時刻 5時00分	出庫時刻 5時15分									到着時刻 18時15分	終業時刻 18時30分			
2日目	乗務前 点呼等	運転 1時間	荷積み 1時間	運転 2時間	休憩 15分	運転 1時間	休憩 15分	運転 2時間	中間点呼 ・休憩 1時間	運転 2時間	荷下ろし 1時間30分	運転 1時間	乗務後 点呼等	宿泊所

始業時刻 6時00分	出庫時刻 6時15分									到着時刻 19時30分	終業時刻 19時45分	
3日目	乗務前 点呼等	運転 1時間15分	荷積み 1時間	運転 3時間	中間点呼 ・休憩 1時間	運転 2時間	休憩 30分	運転 2時間	荷下ろし 1時間30分	運転 1時間	乗務後 点呼等	宿泊所

始業時刻 4時00分	出庫時刻 4時15分									到着時刻 15時35分	終業時刻 16時05分	
4日目	乗務前 点呼等	運転 1時間	荷積み 1時間	運転 2時間	休憩 1時間	運転 2時間	休憩 20分	運転 2時間	荷下ろし 1時間30分	運転 30分	乗務後 点呼 (営業所)	

翌日 当該運行の翌日は、この運行を担当する運転者は、休日とする。

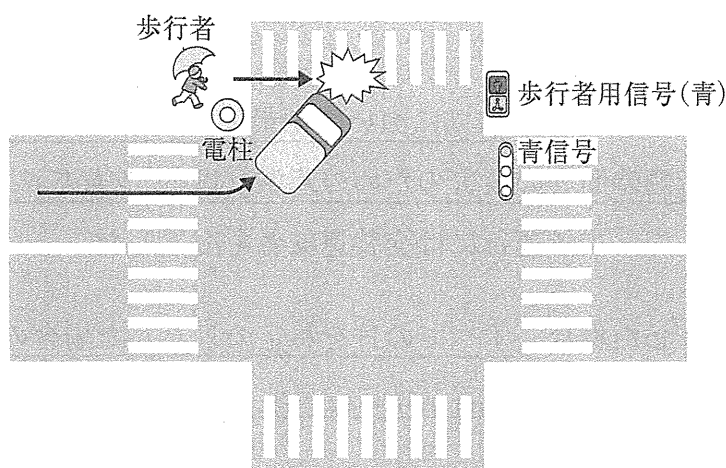
- 1人乗務とした場合、1日についての最大拘束時間及び休息期間が「自動車運転者の労働時間等の改善のための基準」(以下「改善基準」という。)に違反すると判断して、当該運行には交替運転者を配置した。
- 1人乗務とした場合、すべての日を特定の日とした場合の2日を平均して1日当たりの運転時間が改善基準に違反すると判断して、当該運行には交替運転者を配置した。
- 1人乗務とした場合、連続運転時間が改善基準に違反すると判断して、当該運行には交替運転者を配置した。

問30 貨物自動車運送事業者において、次の概要のような事故が発生し、運行管理者はこの事故原因を下記の【事故の原因分析】のとおり「なぜなぜ分析」を行った。この分析結果をもとに導かれた「事故の原因」に基づき、社内の同種事故を防止するためにより直接的に有効な再発防止策として表中のA、B、Cに当てはまるものを、【考えられる再発防止策】の中からそれぞれいずれか1つ選び、解答用紙の該当する欄にマークしなさい。なお、解答にあたっては、【事故概要】及び【事故の原因分析】に記載されている事項以外は考慮しないものとする。

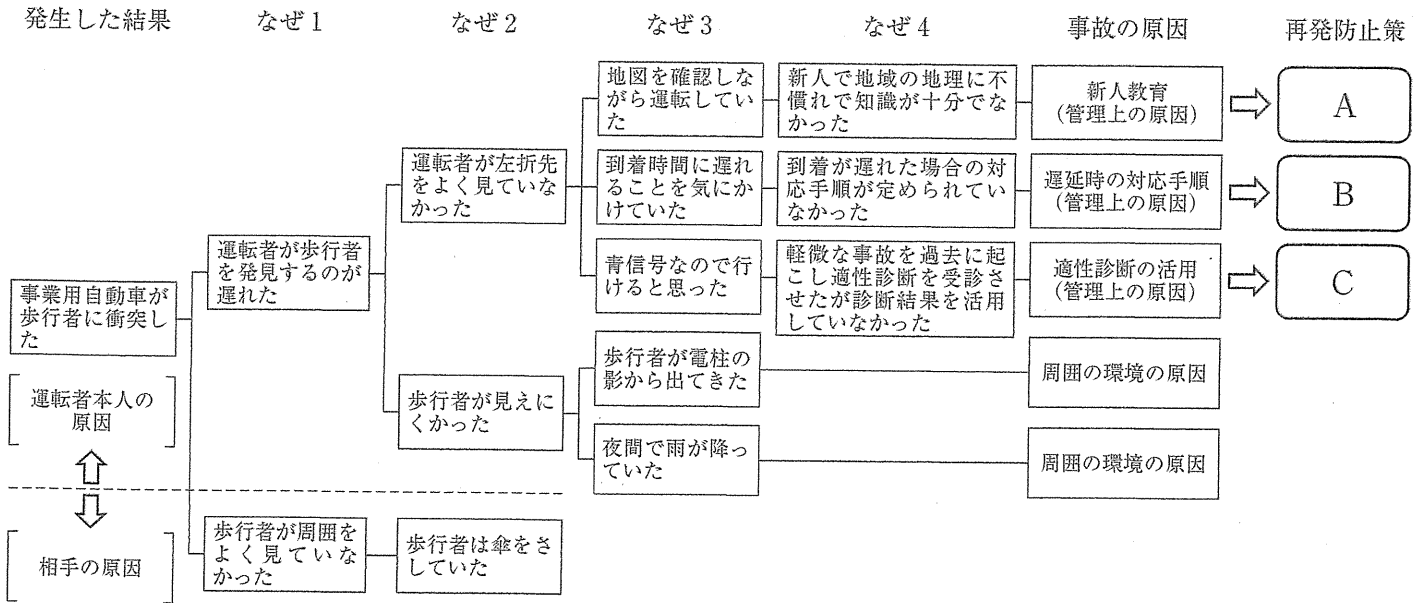
【事故概要】

貨物自動車運送事業者の運転者は、青信号で交差点に進入し、左折しようとしたところ、電柱の影から飛び出してきた歩行者と衝突し、重傷を負わせた。

- ・ 事故発生：21時
- ・ 天候：雨
- ・ 運転者は、不慣れな車高の高い新型トラックを運転していた。
- ・ 運転者は、新人でこの地域の地理に慣れておらず、地図を確認しながら運転していた。
- ・ 運転者は、混雑のため、指示された運行時間に大幅に遅れて走行していた。
- ・ 歩行者は、雨のため傘をさしていた。



【事故の原因分析】



【考えられる再発防止策】

- A
1. 事業用自動車の運転者は、多様な地理的・気象的状况下での運転を余儀なくされることから、運行経路、交通状況等を事前に把握させるとともに、それらの状況下における運転方法について、新人教育を含め適切に指導する。
 2. 事業用自動車の車高、視野、死角、内輪差及び制動距離等は車両ごとに異なることから、これらを十分に把握せずに運転したことに起因する交通事故やヒヤリ・ハットの事例を用いて、新人の運転者に対し、自動車の構造上の特性を把握することを含め安全運転について適切に指導する。
- B
1. 運行中の遅延、トラブル等の発生を考慮した対応マニュアルを作成し、これを確実に実施できる体制を整備するとともに、運転者等に周知・徹底する。
 2. 常に「安全運転」が最優先であることをあらためて運転者に徹底する。
- C
1. 事故惹起運転者に対し、適性診断結果を活用して、本人の運転上の弱点について助言・指導を徹底することにより、安全運転のための基本動作を励行させる。
 2. 適性診断結果の評価の低い事故惹起運転者については、特別な指導を行うことなく、当分の間運転業務から外して、他の業務を行わせる。